

**Nombre  
en  
chiffres**

**Nombre  
en  
lettres**

| mille |   |   | unités |   |   |
|-------|---|---|--------|---|---|
| C     | D | U | C      | D | U |
|       |   |   |        |   |   |
|       |   |   |        |   |   |

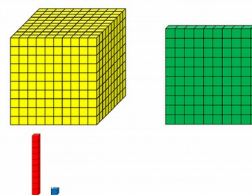
**Nombre  
de  
centaines**

**Décomposition  
additive**

— + — + — + —

**Chiffre des  
centaines**

**Barres et cubes**



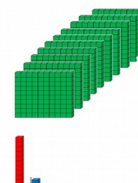
**Nombre  
de  
dizaines**

**Décomposition  
multiplicative**

(— x 1 000)+ (— x 100)+ (— x 10) + —

**Chiffre  
des unités  
de mille**

**Représentation avec les  
plaques de 100**



**Nombre  
d'unités**

**1 243**

**Mille-deux-cent-  
quarante-trois**

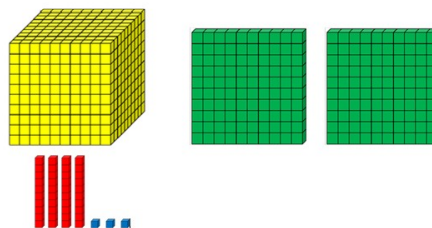
| mille |   |   | unités |   |   |
|-------|---|---|--------|---|---|
| C     | D | U | C      | D | U |
|       |   | 1 | 2      | 4 | 3 |
|       |   |   |        |   |   |

**12**

$$1\ 000 + 200 + 40 + 3$$

**Le chiffre des  
centaines est :**  
2

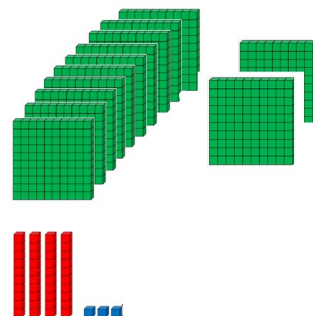
**Barres et cubes**



**124**

$$(1 \times 1\ 000) + (2 \times 100) + (4 \times 10) + 3$$

**Chiffre des unités  
de mille est :**  
1



**1243**

**2 413**

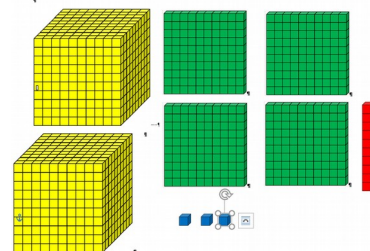
**Deux-mille-  
quatre-cent-  
treize**

| mille |   |   | unités |   |   |
|-------|---|---|--------|---|---|
| C     | D | U | C      | D | U |
|       |   | 2 | 4      | 1 | 3 |
|       |   |   |        |   |   |

**24**

$$2\ 000 + 400 + 10 + 3$$


**Le chiffre des  
centaines est :  
4**



**241**

$$(2 \times 1\ 000) + (4 \times 100) + (1 \times 10) + 3$$

**Chiffre des unités  
de mille est :  
2**



**2413**

**4 321**

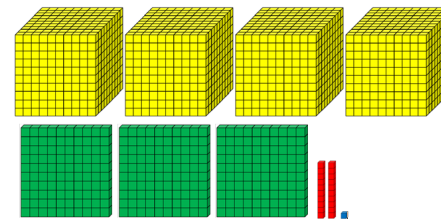
**Quatre-mille-  
trois-cent-vingt-  
et-un**

| mille |   |   | unités |   |   |
|-------|---|---|--------|---|---|
| C     | D | U | C      | D | U |
|       |   | 4 | 3      | 2 | 1 |
|       |   |   |        |   |   |

**43**

$$4\ 000 + 300 + 20 + 1$$

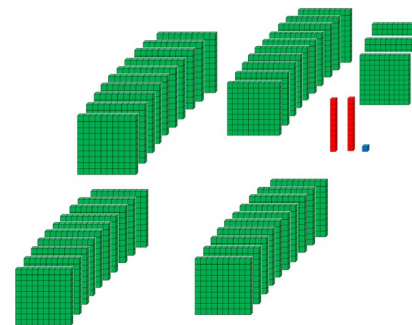
**Le chiffre des  
centaines est :**  
3



**432**

$$(4 \times 1\ 000) + (3 \times 100) + (2 \times 10) + 1$$

**Chiffre des unités  
de mille est :**  
4



**4 321**

**1 432**

**Mille-quatre-  
cent-trente-deux**

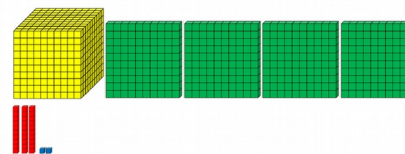
| mille |   |   | unités |   |   |
|-------|---|---|--------|---|---|
| C     | D | U | C      | D | U |
|       |   | 1 | 4      | 3 | 2 |
|       |   |   |        |   |   |

**14**

$$1\ 000 + 400 + 30 + 2$$

**Le chiffre des  
centaines est :**  
4

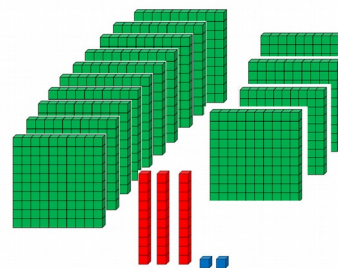
**Barres et cubes**



**143**

$$(1 \times 1\ 000) + (4 \times 100) + (3 \times 10) + 2$$

**Chiffre des unités  
de mille est :**  
1



**1432**

**4 132**

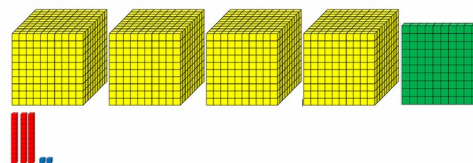
**Quatre-mille-  
cent-trente-deux**

| mille |   |   | unités |   |   |
|-------|---|---|--------|---|---|
| C     | D | U | C      | D | U |
|       |   | 4 | 1      | 3 | 2 |
|       |   |   |        |   |   |

**41**

$$4\ 000 + 100 + 30 + 2$$


**Le chiffre des  
centaines est :**  
1



**413**

$$(4 \times 1\ 000) + (1 \times 100) + (3 \times 10) + 2$$

**Chiffre des unités  
de mille est :**  
4



**4 132**

**3 241**

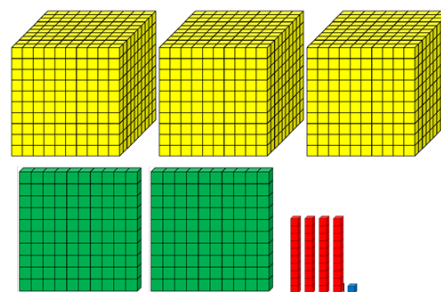
**Trois-mille-deux-cent-quarante-et-un**

| mille |   |   | unités |   |   |
|-------|---|---|--------|---|---|
| C     | D | U | C      | D | U |
|       |   | 3 | 2      | 4 | 1 |
|       |   |   |        |   |   |

**32**

$$3\ 000 + 200 + 40 + 1$$

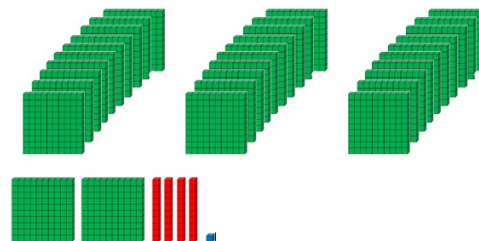
**Le chiffre des centaines est :  
2**



**324**

$$(3 \times 1\ 000) + (2 \times 100) + (4 \times 10) + 1$$

**Chiffre des unités de mille est :  
3**



**3 241**

